



Prüfung: Informationstechnik MT 7D51
Termin: Mittwoch, 05. Juli 2006
8:30 – 10:30
Prüfer: Prof. J. Walter
Hilfsmittel: beliebig / kein Internet / kein WLAN

Name:	_____
Vorname:	_____
Projekt:	_____

bitte keine rote Farbe verwenden

(nicht ausfüllen) !

Aufgabe	mögl. Punkte	erreichte Punkte
1	12	
2	12	
3	15	
4	11	
Gesamt	50	
	Note	

Bearbeiten Sie die Aufgaben nur, falls Sie keine gesundheitlichen Beschwerden haben.

Viel Erfolg

Bemerkung:

Sie können die Vorder- und Rückseite benutzen. Es werden nur die auf den Prüfungsblättern vorhandenen oder fest mit den Prüfungsblättern verbundenen Ergebnisse gewertet.

Mit Abgabe dieser Arbeit bestätigen Sie das Löschen von HPVEE „Classroom-Lizenz“ auf ihrem PC.



1. Gauß'sches Prinzip der kleinsten Fehlerquadrate (12 Punkte)

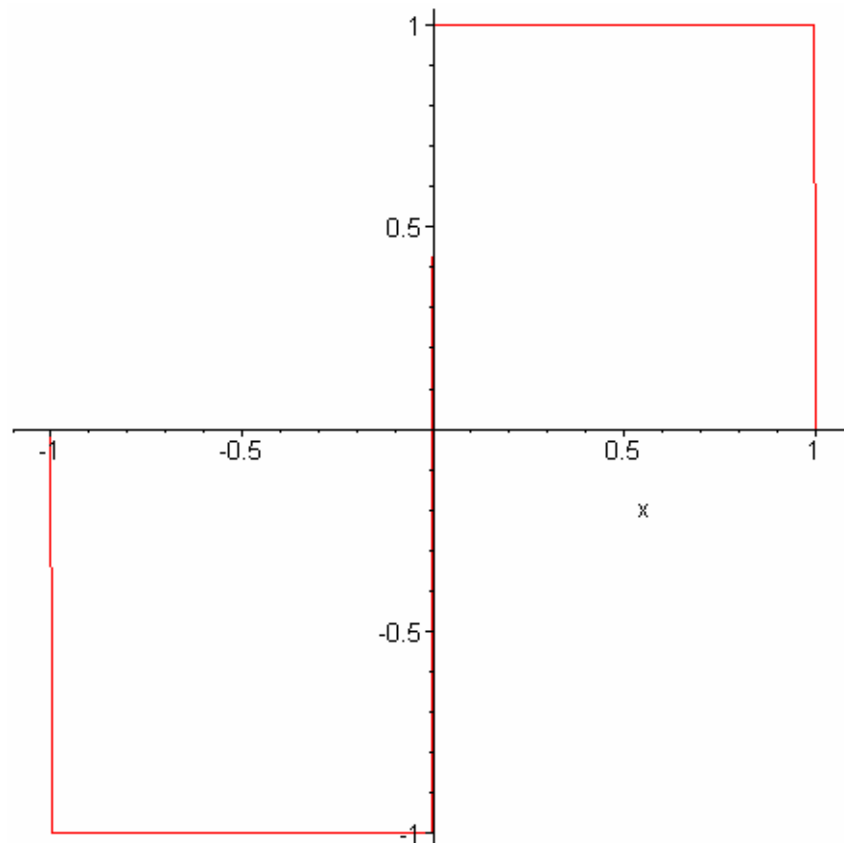
Die Funktion: $f(x) := -\text{Heaviside}(x+1) + 2 \text{Heaviside}(x) - \text{Heaviside}(x-1)$

soll im Bereich $-1.0 \leq x \leq 1.0$ optimal durch ein Polynom $y(x) = a + bx + c \cdot x^2 + d \cdot x^3$ angenähert werden.

- a) 8P Bestimmen Sie das Polynom.
- b) 2P Skizzieren Sie das Ergebnis.
- c) 2P An welche-r/n Stelle/n tritt die größte Abweichung auf?

Lösung:

```
> f(x) := -Heaviside(x+1) + 2*Heaviside(x) - Heaviside(x-1);  
      f(x) := -Heaviside(x+1) + 2 Heaviside(x) - Heaviside(x-1)  
  
> plot (f(x), x=-1.1..+1.1);
```





```
> y(x) := a + b * x + c * x^2 + d * x^3;
```

$$y(x) := a + b x + c x^2 + d x^3$$

```
> GLa := 0 = diff(int(((f(x)) - (y(x)))^2, x = -1..1), a);
```

$$GLa := 0 = 4 a + \frac{4 c}{3}$$

```
> GLb := 0 = diff(int(((f(x)) - (y(x)))^2, x = -1..1), b);
```

$$GLb := 0 = \frac{4 b}{3} + \frac{4 d}{5} - 2$$

```
> GLc := 0 = diff(int(((f(x)) - (y(x)))^2, x = -1..1), c);
```

$$GLc := 0 = \frac{4 c}{5} + \frac{4 a}{3}$$

```
> GLd := 0 = diff(int(((f(x)) - (y(x)))^2, x = -1..1), d);
```

$$GLd := 0 = \frac{4 b}{5} + \frac{4 d}{7} - 1$$

```
> solve({GLa, GLb, GLc, GLd}, {a, b, c, d});
```

$$\left\{ c = 0, a = 0, b = \frac{45}{16}, d = \frac{-35}{16} \right\}$$

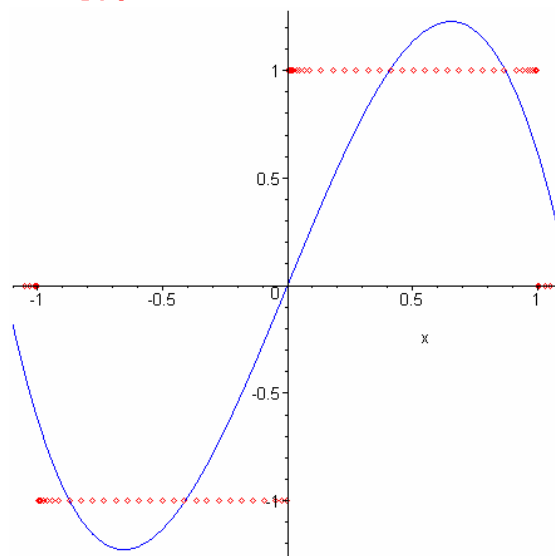
```
> y(x) := (45/16) * x - (35/16) * x^3;
```

$$y(x) := \frac{45}{16} x - \frac{35}{16} x^3$$

$$2.812500000 x - 2.187500000 x^3$$

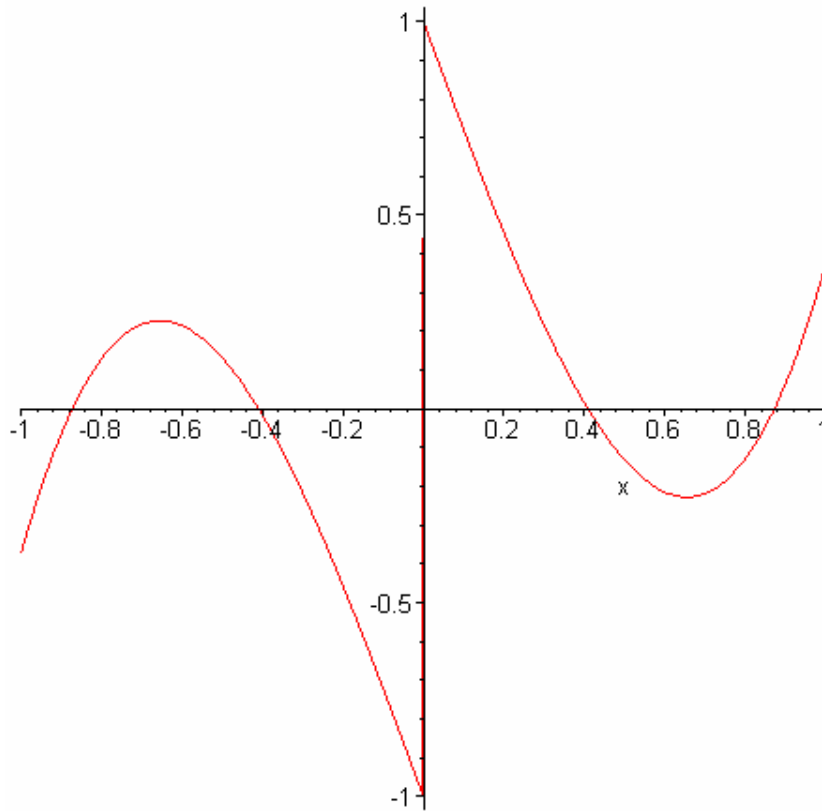
8 Punkte

```
> plot([f(x), y(x)], x = -1.1..1.1, color = [red, blue],  
style = [point, line]);
```



2 Punkte

```
> plot(f(x) - y(x), x = -1.0..1.0);
```



An den Stellen $x=0$;

2 Punkte



2. DFT (12 Punkte)

Eine Cosinusfunktion (Amplitudenwerte +1, -1) mit der Frequenz 75 Hz wird mit der Blockgröße N=10 abgetastet. Die Messzeit ist 20ms.

- a) 1P Tragen Sie die Zeitwerte für die Abtastpunkte in die nachfolgende Tabelle ein.
- b) 1P Tragen Sie die Zeitwerte für die Cosinusfunktion mit Hanningfenster in die Tabelle ein.
- c) 1P Skizzieren Sie die beiden Funktion und deren Abtastwerte.
- d) 6P Berechnen Sie für die beiden Funktionen aus den Abtastwerten jeweils die skalierte DFT für m=0, m=1, m=2, m=3, m=4, m=5. Bitte mit Angabe der Formel!!!
- e) 1P Zeichnen Sie das Amplitudenspektrum der skalierten DFT für beide Funktionen.
- f) 2P Warum sind die Amplituden ab der vierfachen Grundfrequenz der gefensterterten Funktion kleiner als 0,1?

n=	t/ms	cos(x)	cos(x) mit Hanningfenster
0	0	1	24.47m
1	2	0.5878	0.1211
2	4	-0.309	-0.1545
3	6	-0.9511	-0.755
4	8	-0.809	-0.7892
5	10	0	0
6	12	0.809	0.6423
7	14	0.9511	0.4755
8	16	0.309	63.69m
9	18	-0.5878	-14.3m

Skizze : in HPVEE S. 7

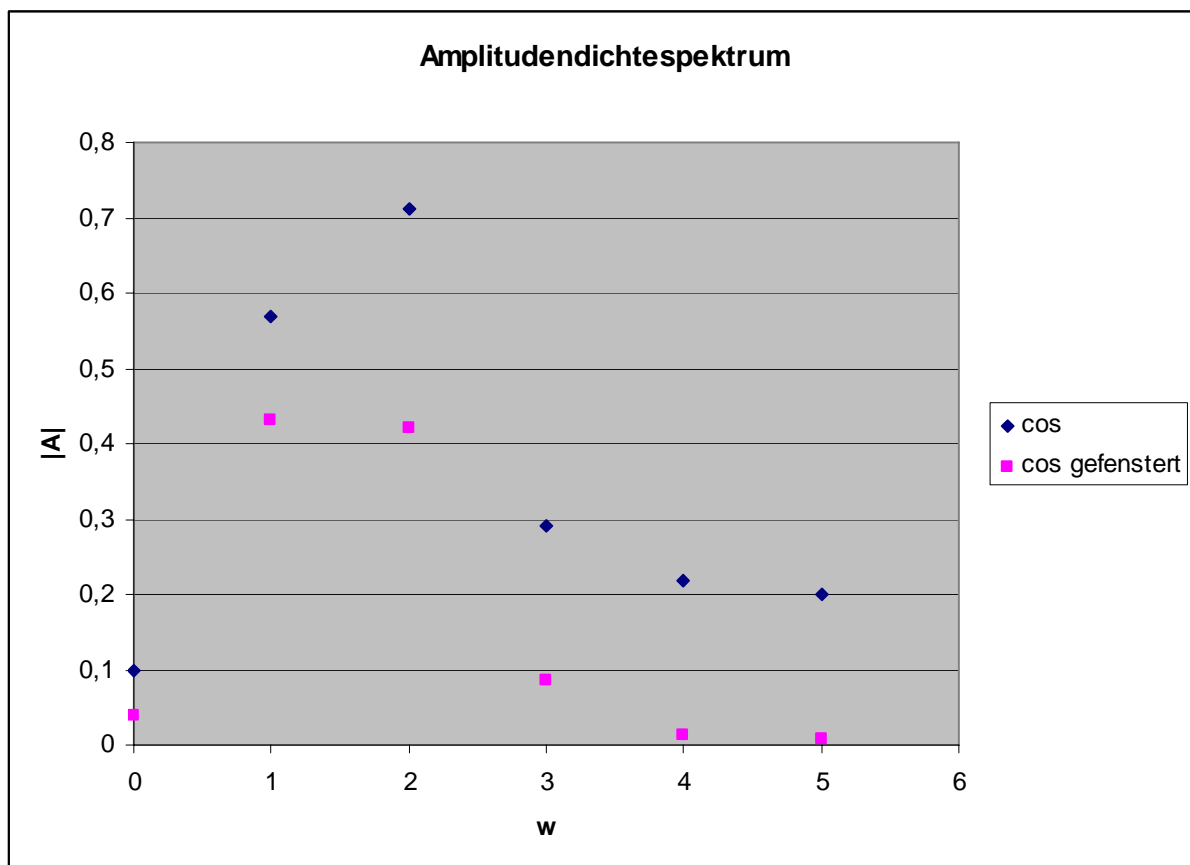
$$|s_m| = 2 * \left[\frac{1}{N} \sum_{n=0}^{N-1} f[n] * \left[\cos \frac{2\pi mn}{N} - j \sin \frac{2\pi mn}{N} \right] \right]$$

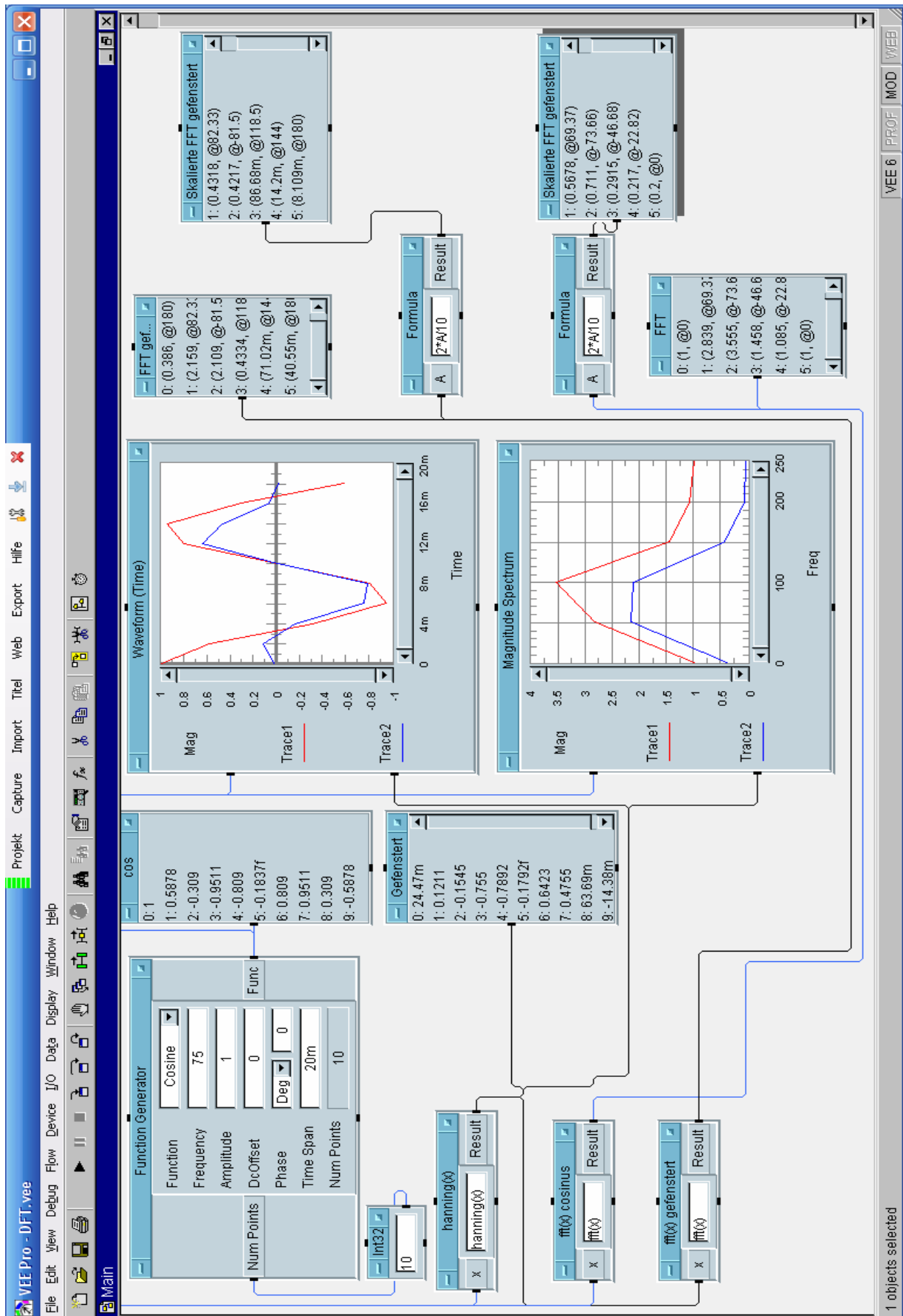


In HPVEE sind Besonderheiten bei der einfachen DFT zu beachten :

1. Es wird die Definition der DFT berechnet, nicht die skalierte DFT
2. Automatisch wird die FFT berechnet, sobald 2^N -Werte vorhanden sind und dies dann fälschlicherweise immer mit FFT bezeichnet.
3. Der Mittelwert ist gesondert zu berechnen = Summe der Werte / Anzahl der Werte
4. Die Amplitudenwerte sind mit $2/N$ zu multiplizieren

m	Amplitude DFT Cosinus	DFT Cosinus mit Fenster
0	0.1	0,038594
1	0.5678	0.4318
2	0.711	0.4217
3	0.2915	86.68m
4	0.217	14.2m
5	0.2	8.109m

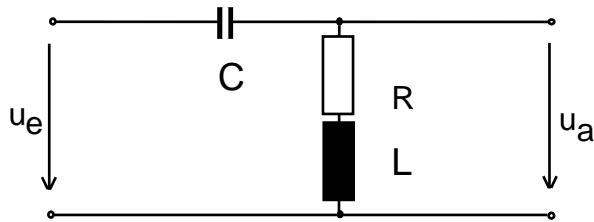






3. DGL - Übertragungsfunktion - Systemantwort (15 Punkte)

Gegeben ist das R,L,C-Glied:



Schaltung mit R, L und C

a) (3P) Erstellen Sie die Übertragungsfunktion $G_1(s)$ – Darstellung: Die höchste Potenz im Nenner hat den Faktor 1.

b) (1P) Erstellen Sie die Übertragungsfunktion $G_2(s)$ für die Werte $\frac{R}{L} = 1$; $\frac{1}{L \cdot C} = 10$

(10P) Bestimmen Sie die Antwort $y(t)$ des Systems $G_2(s)$ auf:

$$\mathbf{x(t) := -Heaviside(t) + 2 * Heaviside(t-1) - Heaviside(t-2);}$$

Hinweis: Schreiben Sie den Ansatz für Maple auf. Als Ergebnis genügt die Skizze. Das Ergebnis ist etwas umfangreicher.

c) (2P) Skizzieren Sie Antwort für $t=0$ bis $t=10$.

Lösung Aufgabe 3a

```
> restart;  
> with (inttrans):  
> assume(a>0);  
> x(t) := -Heaviside(t) + 2*Heaviside(t-1) - Heaviside(t-2);  
x(t) := -Heaviside(t) + 2 Heaviside(t - 1) - Heaviside(t - 2)
```

```
> X(s) := laplace(x(t), t, s); X(s) =  $\frac{1}{s} - \frac{\text{Heaviside}(s-1)}{s}$   

$$X(s) := -\frac{1}{s} + \frac{2e^{(-s)}}{s} - \frac{e^{(-2s)}}{s}$$

```

```
> G(s) := (s^2+1*s)/(s^2+1*s+10);
```

$$G(s) := \frac{s^2 + s}{s^2 + s + 10}$$

```
>
```

```
> Y(s) := G(s)*X(s);
```




$$Y(s) := \frac{(s^2 + s) \left(-\frac{1}{s} + \frac{2e^{(-s)}}{s} - \frac{e^{(-2s)}}{s} \right)}{s^2 + s + 10}$$

```
> y(t):=invlaplace(Y(s), s, t);
```

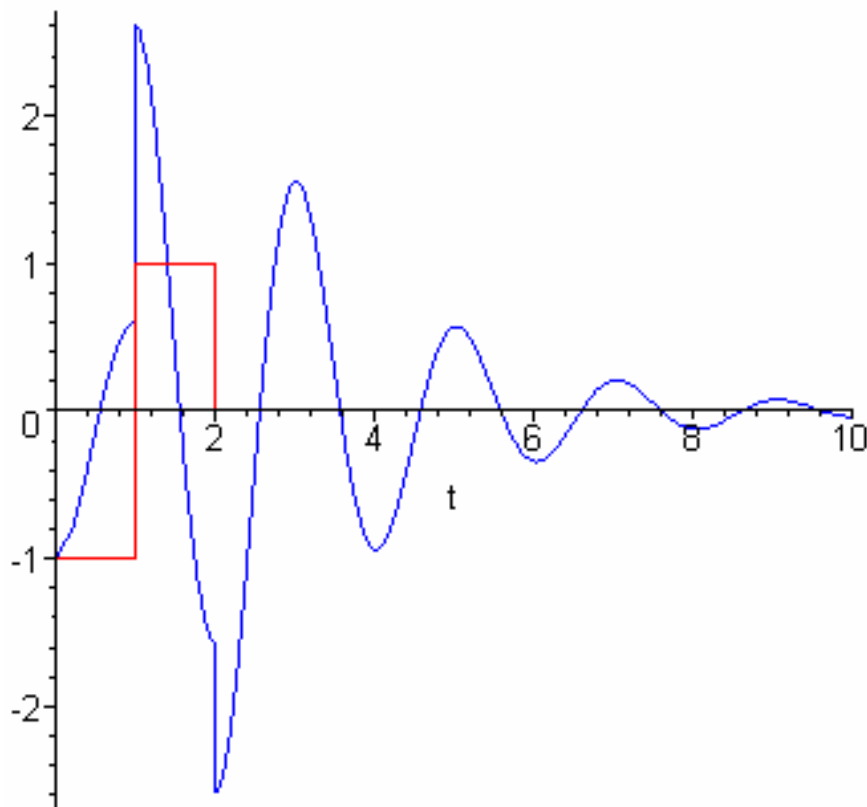
$$y(t) := \left(2e^{\left(-\frac{t}{2}+1/2\right)} \cos\left(\frac{\sqrt{39}(t-1)}{2}\right) + \frac{2}{39}\sqrt{39}e^{\left(-\frac{t}{2}+1/2\right)} \sin\left(\frac{\sqrt{39}(t-1)}{2}\right) \right)$$

Heaviside(t - 1) +

$$\left(-e^{\left(-\frac{t}{2}+1\right)} \cos\left(\frac{\sqrt{39}(t-2)}{2}\right) - \frac{1}{39}\sqrt{39}e^{\left(-\frac{t}{2}+1\right)} \sin\left(\frac{\sqrt{39}(t-2)}{2}\right) \right) \text{Heaviside}(t - 2)$$

$$-e^{\left(-\frac{t}{2}\right)} \cos\left(\frac{\sqrt{39}t}{2}\right) - \frac{1}{39}\sqrt{39}e^{\left(-\frac{t}{2}\right)} \sin\left(\frac{\sqrt{39}t}{2}\right)$$

```
> plot([x(t),y(t)], t=0..10, color=[red,blue], style=[line,line]);
```



>



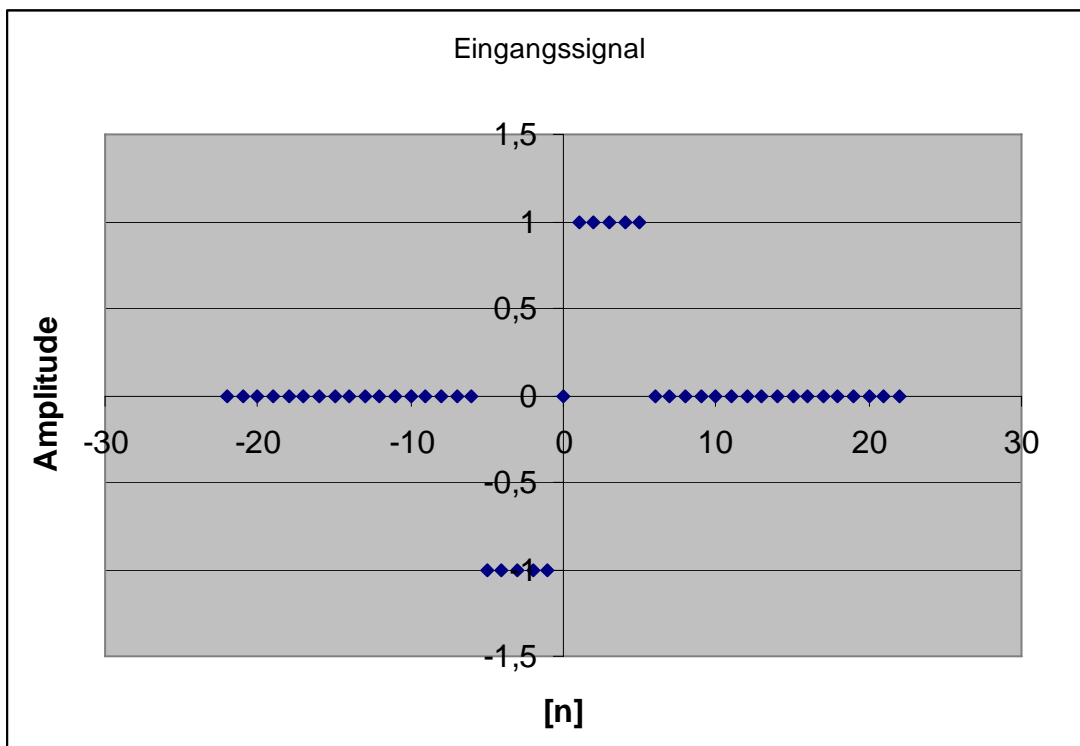
4 FIR-Filter (11 Punkte)

Eine Bandsperrfilter mit der Grenzfrequenz $f_{\text{guten}}=400\text{Hz}$ und $f_{\text{goben}}=600\text{Hz}$ ist als FIR-Filter für $N=8$ zu entwerfen. Die Abtastfrequenz beträgt $f_a=10\text{ kHz}$.

a) Berechnen Sie die Filtergleichung für das FIR-Filter

$$y_{n\text{FIR}} = \left[\sum_{k=-N}^{k=N} a_k * x_{n-k} \right]$$

b) Berechnen und skizzieren Sie die Antwort $y_1[n]$ auf das Eingangssignal:



Lösung:

$$a_k = 2 * \frac{f_g}{f_a} * \text{si}(k * 2\pi * \frac{f_g}{f_a}) = a_{-k}$$

In die Filtergleichung eingesetzt:

$$y_{n\text{FIR}} = \left[\sum_{k=-N}^{k=N} a_k * x_{n-k} \right] \text{ Filterkoeffizienten in der nachstehenden Excel-Tabelle.}$$

Bandpass = Tiefpassoben-Tiefpassunten
Bandsperrfilter = Allpass-Bandpass



FIR-Filter	Delta_t	fa 10000	fgu 400	fgo 600	fgu/fa 0,04	fgo/fa 0,06
k	aku	ako		Allpass	Bandsperr	ak
-8	0,03600192	0,00498685	-0,0310151	0	0,03101507	0,031
-7	0,04466739	0,02190671	-0,0227607	0	0,02276068	0,023
-6	0,05294696	0,040877	-0,01207	0	0,01206997	0,012
-5	0,06054614	0,06054614	0	0	0	0
-4	0,06718948	0,07942044	0,01223096	0	-0,012231	-0,012
-3	0,0726327	0,09600513	0,02337243	0	-0,0233724	-0,023
-2	0,07667348	0,10894906	0,03227558	0	-0,0322756	-0,032
-1	0,07916045	0,11717768	0,03801723	0	-0,0380172	-0,038
0	0,08	0,12	0,04	1	0,96	0,96
1	0,07916045	0,11717768	0,03801723	0	-0,0380172	-0,038
2	0,07667348	0,10894906	0,03227558	0	-0,0322756	-0,032
3	0,0726327	0,09600513	0,02337243	0	-0,0233724	-0,023
4	0,06718948	0,07942044	0,01223096	0	-0,012231	-0,012
5	0,06054614	0,06054614	0	0	0	0
6	0,05294696	0,040877	-0,01207	0	0,01206997	0,012
7	0,04466739	0,02190671	-0,0227607	0	0,02276068	0,023
8	0,03600192	0,00498685	-0,0310151	0	0,03101507	0,031

	Eingang	Ausgang
-30	0	0
-29	0	0
-28	0	0
-27	0	0
-26	0	0
-25	0	0
-24	0	0
-23	0	0
-22	0	0
-21	0	0
-20	0	0
-19	0	0
-18	0	0
-17	0	0
-16	0	0
-15	0	0
-14	0	0
-13	0	-0,0310151
-12	0	-0,0537758
-11	0	-0,0658457
-10	0	-0,0658457
-9	0	-0,0536148
-8	0	0,00077274



-7	0	0,08682408
-6	0	0,15967196
-5	-1	-0,7882581
-4	-1	-0,7624718
-3	-1	-0,7657996
-2	-1	-0,8290903
-1	-1	-0,9099128
0	0	0
1	1	0,9099128
2	1	0,82909027
3	1	0,76579962
4	1	0,7624718
5	1	0,78825808
6	0	-0,159672
7	0	-0,0868241
8	0	-0,0007727
9	0	0,05361476
10	0	0,06584572
11	0	0,06584572
12	0	0,05377576
13	0	0,03101507
14	0	0
15	0	0
16	0	0
17	0	0
18	0	0
19	0	0
20	0	0
21	0	0
22	0	0
23	0	0
24	0	0
25	0	0

